

DAV MODEL SCHOOL KSTP ASANSOL
HOLIDAY HOMEWORK 1 (Session 2024- 25)
CLASS – VI

Name: _____ Class: _____ Roll No: _____

1. Read the comprehension and tick the correct answers:-

There are houses all over the world. Some houses are large. Some are small. Some are made of wood. Some are made of rock. Some are made of mud. Some are made of cloth. In cold places, some houses are made of ice –frozen water! People usually build their houses with something that is easy to find. For example, there are many trees in the forest. So people who live there might build a house made of logs. Some houses have one room. Some houses have many rooms. There is usually a bedroom for sleeping. There is often a kitchen for cooking. There is usually a bathroom. There is often a living room for sitting and talking. Some houses have basements. The basement is under the main part of the house. Some houses have attics. The attic is above the main part of the house. Most houses have a door so people can enter and exit the house. Most houses have windows so the people can look outside.

Windows also let air into the house from outdoors. Some houses are fancy. They are painted bright colours and are very decorative. Some houses not fancy — they are plain and simple. Houses look very different in different parts of the world. But, people who live in a house probably all agree that there is no place like home!

- I. Why are many forest houses made of logs?
 - A. There are many logs in the forest
 - B. Trees are easy to find in the forest
 - C. There is a lot of wood in the forest.
 - D. All of the above
- II. Why do houses have bedrooms?
 - A. For sleeping B. For cooking
 - B. For relaxing D. For building things
- III. Where is the basement of a house?
 - A. Beside the house B. Above the house
 - C. Under the house D. None of the above
- IV. Houses have doors...
 - A. So people can enter and exit
 - B. B. So people can sleep
 - C. So people can cook and eat
 - D. D. Both A and B are correct.
- V. Houses have windows to...

- A. Let people go outside B. Let people look outside C. Let air into the house from outdoors D. Both B and C are correct.
2. Suppose you are the principal of L.K Nonia Memorial Primary School. You have been asked to write a notice about the onset of summer break from 15/05/2024 to 14/06/2024. Frame a notice in not more than 60 words.

3. Answer the following questions :-

- a. What did Daddy finally decide what he wanted to be when he grew up?

Ans

- b. What efforts did Daddy put in to be a dog?

Ans

- c. Why did the white elephant's mother advise him not to help the man in distress?

Ans.

4. Fill in the blanks with correct nouns:-

- a. The man is known for his _____ (honest)
b. A thing of _____ is joy forever (beautiful)
c. He takes _____ in what he does.(proud)
d. They had a troubled _____. (child)
e. King Solomon is known for _____. (wise)

DAV MODEL SCHOOL KSTP ASANSOL

HOLIDAY HOMEWORK 2 (Session 2024- 25)

CLASS – VI

Name: _____ Class: _____ Roll

No: _____

1. You are Ramesh. Today you had the following conversation with Rajesh, a friend of your elder brother:

Rajesh : Hello! Is it 991234509?

Ramesh : Yes. I'm Ramesh speaking. What can I do for you?

Rajesh : Well, Ramesh! I'm Rajesh, you know your brother's friend.

Ramesh : Oh, I see. Well, brother is not here now. So can I help you?


Rajesh : Could you please convey him that he should bring my practical book today in school as I need it in class today.

Ramesh : That's fine. I'll do that.

As you are leaving for your school, write a message for your brother in about 50 words. Put your message in a box.

2. Fill in the blanks with the appropriate past tense of the verb given in the brackets. Remember, regular verbs follow a fixed pattern while irregular verbs do not.

- a. Yesterday, I ___ (walk) to the park.
 - b. She ___ (read) a novel last night.
 - c. They ___ (dance) at the party.
 - d. I ___ (run) in a marathon last week.
 - e. We ___ (go) to the cinema yesterday.
3. Your school celebrated Rabindra Jayanti on 8 May, 2024. You participated in the cultural programme organized by your school. Write a diary entry about the preparation and final programme.



4. Make a Web chart on the characteristics of “Daddy”



D.A.V. MODEL SCHOOL, KSTP, ASANSOL
HOLIDAY HOME WORK (SUMMER VACATION)
SESSION: 2024-2025

SUBJECT: HINDI

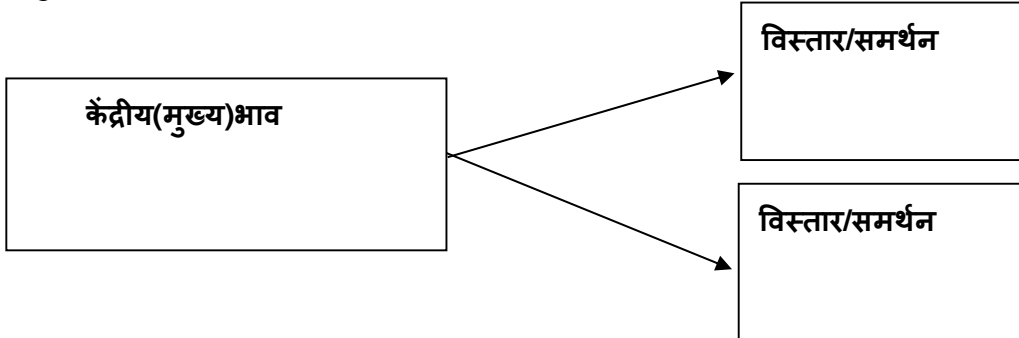
CLASS: VI

Name _____ Roll No: _____ Section: _____

1. प्रस्तुत गद्यांश को पढ़कर पूछे गए प्रश्नों के उत्तर लिखिए -

मनुष्य उत्सव-प्रिय होते हैं। उत्सवों का एकमात्र उद्देश्य आनंद-प्राप्ति है। यह तो सभी जानते हैं कि मनुष्य अपनी आवश्यकता की पूर्ति के लिए आजीवन प्रयत्न करता रहता है। आवश्यकता की पूर्ति होने पर सभी को सुख होता है। पर, उस सुख और उत्सव के आनंद में बड़ा फर्क है। मनुष्य जीवन ही ऐसा है कि वह किसी भी अवस्था में यह अनुभव नहीं कर सकता कि अब उसके लिए कोई आवश्यकता नहीं रह गई है। एक के बाद दूसरी वस्तु की चिंता उसे सताती ही रहती है। इसलिए किसी एक आवश्यकता की पूर्ति से उसे जो सुख होता है, वह अत्यंत क्षणिक होता है, क्योंकि तुरंत ही दूसरी आवश्यकता उपस्थित हो जाती है। उत्सव में हम किसी बात की आवश्यकता का अनुभव नहीं करते। यही नहीं, उस दिन हम अपने काम काज छोड़कर विशुद्ध आनंद की प्राप्ति करते हैं। यह आनंद जीवन का आनंद है, काम का नहीं।

i. उपर्युक्त गद्यांश को पढ़कर केंद्रीय विचार एवं दो समर्थन वाक्यों को अपने शब्दों में लिखिए।



ii) प्रस्तुत गद्यांश के आधार पर एक निष्कर्ष अपने शब्दों में लिखिए।

2. निम्नलिखित शब्दों के उचित संबंध वाले विकल्प छाँटकर लिखिए -

क) बाँहे: राहें :: उठाना : ?

i) बेलन ii) सुनार iii) बढ़ाना iv) गिरा

ख) अमन : व्यक्तिवाचक संज्ञा :: गैद : ?

i) समूहवाचक संज्ञा ii) द्रव्यवाचक संज्ञा iii) भाववाचक संज्ञा iv) जातिवाचक संज्ञा

3. निम्नलिखित प्रश्नों के उचित विकल्प चुनकर लिखिए -

क) 'अचानक बिजली चमकने लगी।' -प्रस्तुत वाक्य में क्रिया वाला शब्द है-

i) अचानक ii) बिजली iii) चमकने iv) हैं _____

ख) जिन वर्णों पर बिंदु (अनुस्वार) लगता है, उन्हें बोलते समय आवाज़ कहाँ से निकलती है?

i) मुँह से ii) नाक से iii) गले से iv) मुँह और नाक से _____

4.	<p>निम्नलिखित कथनों को पढ़कर सही विकल्प वाले उत्तर छाँटकर लिखिए -</p> <p>क) कथन : 'बचपन' शब्द भाववाचक संज्ञा का उदाहरण है। कारण : जिन शब्दों से किसी भाव के होने का पता लगे वे भाववाचक संज्ञा कहलाते हैं।</p> <p>i) कथन और कारण दोनों सही हैं, क्योंकि कारण कथन की सही व्याख्या है। ii) कथन और कारण दोनों सही हैं, परंतु कारण कथन की गलत व्याख्या है। iii) कथन सही है, परंतु कारण गलत है। <input type="text"/> iv) कथन गलत है, परंतु कारण सही है। <input type="text"/></p>
5.	<p>निम्नलिखित प्रश्नों के उत्तर (20-25 शब्दों में) लिखिए -</p> <p>क) आप अखबार क्यों पढ़ते हैं? किन्हीं दो हिंदी अखबारों के नाम लिखिए।</p> <hr/> <hr/> <p>ख) मुसीबत में आपकी मदद कौन और कैसे करता है?</p> <hr/> <hr/>
6.	<p>बरसात होने पर आप क्या-क्या करते हैं? 30- 35 शब्दों में उत्तर लिखिए-</p> <hr/> <hr/> <hr/>
7.	<p>पाँचवी कक्षा की वार्षिक परीक्षा देते समय आपने किन-किन कठिनाइयों का सामना किया इनके बारे में बताते हुए अपने मित्र को पत्र (80 शब्दों में) लिखिए।</p>

D.A.V. MODEL SCHOOL
HOLIDAY HOMEWORK WORKSHEET – I

CLASS : VI

SUBJECT : BENGALI

NAME: _____ SEC: _____ ROLL: _____

(TOPIC: (প্রিয়মুখুয্যে, শ্রী চৈতন্যদেব ও ব্যঞ্জনবর্ণের শ্রেণিবিভাগ এবং স্বরবর্ণ ও ব্যঞ্জনবর্ণের উচ্চারণ-বিধি)

1. নির্দেশ অনুযায়ী নিম্নলিখিত প্রশ্নের উত্তর দাও

ক) সঠিক উত্তরটির উপর(✓) চিহ্ন দাও।

i) প্রিয়মুখুয্যে একজন (অ্যালোপ্যাথিক / আয়ুর্বেদিক / হোমিওপ্যাথি ডাক্তার) ।

ii) ইংরেজি (১৪৮৬ সালের / ১৫৮৬ সালের / ১৬৮৬ সালের) দোল পূর্ণিমার রাতে শ্রীচৈতন্যদেব জন্মগ্রহণ করেছিলেন ।

iii) উচ্চারণ স্থান বা স্পর্শের স্থান অনুসারে স্পর্শ বর্ণগুলোকে (দুটি / পাঁচটি / দশটি) বর্ণে ভাগ করা হয় । ।

iv) প্রিয় মুখুয্যের মন (দুধের / গঙ্গাজলের / বরফের) মতো সাদা।

v) (বাঘের / কুকুরের / সাপের) কামড়ে লক্ষ্মীপ্রিয়া দেবীর মৃত্যু ঘটে।

খ) সত্য / মিথ্যা লেখ।

i) প্রিয় মুখুয্যে দুলে বউকে আট আনিটি নেওয়ার জন্য তাঁর স্ত্রীর কাছে যেতে বলেন। _____

ii) নিমাই এর বয়স যখন তেইশ, তখন তিনি বাবার পিণ্ডি দিতে গয়ায় গিয়েছিলেন। _____

iii) যে স্বরধ্বনিকে ভাঙ্গা যায় না, তাকে যৌগিক বা সংযুক্ত স্বরধ্বনি বলে। _____

iv) সকালবেলায় প্রিয় মুখুয্যে মশাই ব্যস্ত হয়ে প্র্যাকটিসে যাচ্ছিলেন। _____

v) গৌরাঙ্গের ভালো নাম ছিল বিশ্বরূপ। _____

vi) র – কে বলা হয় কম্পনজাত ধ্বনি। _____

গ) শূন্যস্থান পূরণ কর।

i) এ গাঁয়ে আপনি ছাড়া আর _____ নেই।

ii) ছদ্মবেশী তুর্কী মুসলমানদের হাতে _____ হঠাৎ পরাজয়ের সঙ্গে সঙ্গে বাংলাদেশের হিন্দু রাজত্বের অবসান হল।

iii) _____ সাহায্যে উচ্চারিত হতো বলে 'শ'- নামকরণ করা হয়েছিল 'তালব্য-শ'।

iv) সর্দি - কাশিকে অবহেলা করলে _____ রোগ হয়।

ঘ) সঠিক উত্তরটি বেছে নিয়ে লেখ।

i) মন্তব্য: প্রিয় মুখুয়োর মন গঙ্গা জলের মতো সাদা।

যুক্তি: তিনি ছিলেন পরোপকারী মানুষ।

- a) মন্তব্য ঠিক যুক্তি ভুল b) মন্তব্য ভুল যুক্তি ঠিক
c) মন্তব্য ও যুক্তি দুটিই ঠিক d) মন্তব্য ও যুক্তি দুটিই ভুল

ii) মন্তব্য : দুলে বউয়ের মেয়ে সারাদিন অভুক্ত ছিল।

যুক্তি : দুলে বউয়ের মেয়ের ব্যামো হয়েছিল।

- a) মন্তব্য ঠিক যুক্তি ভুল b) মন্তব্য ভুল যুক্তি ঠিক
c) মন্তব্য ও যুক্তি দুটিই ঠিক d) মন্তব্য ও যুক্তি দুটিই ভুল

iii) মন্তব্য : প্রিয় মুখুয্যে তার গিন্নির কাছে দুলে বউকে যেতে নিষেধ করে।

যুক্তি : প্রিয় মুখুয়োর গিন্নির মন অপরের দুঃখে কেঁদে ওঠে।

- a) মন্তব্য ঠিক যুক্তি ভুল b) মন্তব্য ভুল যুক্তি ঠিক
c) মন্তব্য ও যুক্তি দুটিই ঠিক d) মন্তব্য ও যুক্তি দুটিই ভুল

iv) মন্তব্য : বুড়ো ষষ্ঠীচরণ প্রিয় মুখুয্যাকে 'খ্যাপাটে লোক' বলে সম্বোধন করেন।

যুক্তি : প্রিয় মুখুয্যে ছাড়া গরীব দুঃখীর দুঃখ কেউ বোঝে না।

- a) মন্তব্য ঠিক যুক্তি ভুল b) মন্তব্য ভুল যুক্তি ঠিক
c) মন্তব্য ও যুক্তি দুটিই ঠিক d) মন্তব্য ও যুক্তি দুটিই ভুল

ঙ) বাঁদিকের সঙ্গে ডানদিক মিলিয়ে লেখ।

i) উষ্ম বর্ণগুলি উচ্চারণের সময় বাগযন্ত্র থেকে

a) দন্ত্য ন – এর মতো

ii) চ ছ জ ঝ এদের যেকোনো একটি বর্ণের সঙ্গে যুক্ত হলে 'ঞ' উচ্চারণ হয়

b) সানুনাসিকত্ব লাভ করে

iii) অনেক সময় শব্দের প্রথমে 'এ' – কার থাকলে তার উচ্চারণ বিকৃত হয়ে হয়

c) গরম বায়ু বেরিয়ে আসে

iv) বাংলায় চন্দ্রবিন্দু যে বর্ণের মাথায় বসে, সেই বর্ণের উচ্চারণ

d) অ্যা

C. Long Answer Type Question:


8. A student multiplied 8245 by 35 instead of 32. By how much was his answer greater than the correct answer?
9. The greatest four digits number made with the digits 1,0,9,2 is divided by the smallest 3- digits number made with 1,9,2. Find the quotient and the remainder.

D. Case Study Based Questions:

10. Two friends Rohit and Ankit enrolled for a talent search exam. In the examination the Rohit's roll number was 2133, his friend Ankit's roll number was next to Rohit.
- (i) What is Rohit's roll number in Roman number system?
- (a) MMCXXIII (b) MMCXXXII (c) MCMXXIII (d) MMCXXXIII
- (ii) What is Ankit's roll number?
- (a) 2132 (b) 2130 (c) 2134 (d) 2135
- (iii) What is Ankit's roll number in Roman number system?
- (a) MMCXXXIV (b) MMCXXVI (c) MCMXXIV (d) MMCXXXVI
- (iv) If Arun's roll number is before Rohit, what is Arun's roll number?
- (a) 2132 (b) 2130 (c) 2134 (d) 2135

9. How many numbers less than 20 can be written as the sum of two prime numbers?

11. The department of Computer Science and Technology is conducting an International Seminar. In the seminar, the number of participants in Mathematics, Science and Computer Science are 60, 84 and 108 respectively. The coordinator has made the arrangement such that in each room, the same number of participants are to be seated and all of them being in the same subject. Also, they allotted the separate room for all the official other than participants.



(i) Find the total number of participants.

- (a) 60 (b) 84 (c) 108 (d) none of these

(ii) Find the LCM of 60, 84 and 108.

- (a) 12 (b) 504 (c) 544320 (d) 3780

(iii) Find the HCF of 60, 84 and 108.

- (a) 12 (b) 60 (c) 84 (d) 108

(iv) Find the minimum number of rooms required, if in each room, the same number of participants are to be seated and all of them being in the same subject.

- (a) 12 (b) 20 (c) 21 (d) none of these

D.A.V.MODEL SCHOOL, KSTP, ASANSOL
HOLIDAY HOMEWORK
SESSION 2024-2025

Class: VI

Subject: SCIENCE

Q.No.	QUESTION
1.	Choose the correct option Choose the odd one out a. peas b. Grams c. pulses d. cottage cheese
2.	Some food items are listed below i. honey ii. Milk iii. Spinach iv. Salt which of these are good sources of vitamins a. i and iii b. ii and iii c. i and iv d. ii and iv
3.	Deficiency of which vitamin causes sterility a. vitamin A b. Vitamin D c. Vitamin C d. Vitamin K
4.	Name of a secondary consumer is a. Frog b. Mosquito c. cattle d. fodder
5.	Decomposers include a. bacteria only b. fungi only c. bacteria as well as fungi d. scavengers
6.	Which of the following nutrients is not present in eggs a. protein b. vitamin b c. Fibre d. both a and c
7.	Roughage is important for which activity? a. proper absorption of nutrients b. bowel movement c. optimal gut health d. all of these
Instruction for questions 8 to 10, Read the two statements carefully and choose the correct option	
8.	Assertion(A): One should consume milk daily Reason(R): Milk is a rich source of vitamin C a. Both A and R are true, but R is not the correct explanation of A b. Both A and R are true and R is the correct explanation of A c. A is true, but R is false d. A is false, R is true
9.	Assertion(A): Do not peel fruits before consumption Reason(R): Fruit peels provide dietary fibres. a. Both A and R are true, but R is not the correct explanation of A b. Both A and R are true, and R is the correct explanation of A c. A is true, but R is false d. A is false, but R is true
10.	Assertion(A): The mineral cycle is the cycling of material through biotic and abiotic components Reason(R): Decomposers are a part of mineral cycle that help to break down the dead bodies of producers and consumers. a. both A and R are true, and R is the correct explanation of A b. both A and R are true, but R is not the correct explanation of A c. A is true, but R is false d. A is false, but R is true
INSTRUCTIONS for question 11 to 15, write the answer in 20-30 words	

11.	<p>What kind of diet would you recommend to someone whose teeth and bones are prone to breaking easily?</p> <hr/> <hr/> <hr/>
12.	<p>A patient came to visit to doctor with symptoms like skin and hair discolouration and a lot of facial swelling. Can you identify which nutrient deficiency causes these symptoms?</p> <hr/> <hr/> <hr/>
13.	<p>How does decomposition of dead animals turn out to be useful?</p> <hr/> <hr/> <hr/> <hr/>
14.	<p>Write the meaning of the term vercomposting.</p> <hr/> <hr/>
15.	<p>People who eat seafood are less likely to suffer from goiter. Why?</p> <hr/> <hr/> <hr/>
16.	<p>What do understand by the term ‘balanced diet’? Write the components of a balanced of a balanced diet. Name the disease cause due to deficiency of Iodine.</p> <hr/> <hr/> <hr/> <hr/>

17.

Which disease are caused due to deficiency of water and dietary fibres? Explain and also write their preventive measure.

18.

Define primary consumer and secondary consumer. Give two examples of each type of consumer. Define mineral cycle.

19.

Carbohydrates mainly provide energy to our body. Fats also give us energy. In fact, fats give much energy as compared to the same amount of carbohydrates. Foods containing fats and carbohydrates are called energy giving foods.

1. Which of the following is not a plant source of fats?

- a. ground nuts
- b. milk
- c. coconut oil
- d. til

2. Describe one test for detecting the presence of protein

3. Write some sources of minerals (iron, phosphorous, iodine)

20.

Draw a diagram that shows the relationship between the biotic and the abiotic components of the environment.

DAV MODEL SCHOOL, KSTP
ASANSOL
HOLIDAY HOMEWORK
SESSION—2024-25
Class -6 Subject- Social Science
WORKSHEET- 1

Name _____ Roll no. _____ Section _____

I. Tick the correct option

1. Environment should be kept _____.
a. Beautiful and Bright () b. Dry and Wet ()
b. Clean and Green () d. Hot and Cold ()
2. Which of the following is harvesting festival?
a. Baisakhi () b. Diwali () c. Holi () d. Eid ()
3. The directive principles of state Policy are helpful in achieving our national goals like _____.
a. Secularism () b. Economic justice () c. Population control () d. Education for all ()
4. Who wrote Abhigyan Shakuntalam?
a. Kalidas () b. Tulsidas () c. Mahatma Buddha () d. Kautilya ()
5. Jain literature was written in _____ language.
a. Pali () b. Prakrit () c. Sanskrit () d. Hindi ()
6. Which of the following is the hottest planet?
a. Mars () b. Venus () c. Jupiter () d. Neptune ()
7. Which of the following planet has 2 satellites?
a. Mars () b. Venus () c. Earth () d. Neptune ()
8. The smallest unit of a community is _____.
a. a village () b. a family () c. a school () d. a child ()
9. Jupiter has _____ number of satellites.
a. One () b. Five () c. fifty-three () d. Two ()
10. The Chinese traveller who visited India was _____.
a. Columbus () b. Meghasthenes () c. Fa-Hien () d. Alexander ()
11. 4 Which is the most distance planet from the sun?
Uranus () b. Jupiter () c. Saturn () d. Neptune ()

II. write the answers of the following questions in brief.

1. What is Universe?

2. Explain the role of school in development.

3. Write the role of literary sources of Indian History?

III. Fill in the blanks

1. The heavenly bodies that revolve around their respective planets are called _____.
2. The study of coins is called _____.
3. Many villages and cities together form a _____.

DAV MODEL SCHOOL, KSTP
ASANSOL
HOLIDAY HOMEWORK
SESSION—2024-25
Class -6 Subject- Social Science
WORKSHEET- 2

Name _____ Roll no. _____ Section _____

I. Tick the correct option

1. The period when the art of writing was unknown is known as _____.
a. History () b. Medieval History () c. Prehistory () d. ancient history ()
2. Prose, Poetry, Plays etc. are part of _____ literature.
a. Secular () b. Non-Religious () c. Religious () d. Historical ()
3. The planet that does not have any satellites is _____.
a. Jupiter () b. Mars () c. Mercury () d. Neptune ()
4. After Independence India has made tremendous progress in the field of?
a. Agriculture () b. Industry () c. power generation () d. all of these ()

II. Answer the following questions.

1. With the help of the diagram give a brief description on the phases of Moon.



2. How does the study of coins help historians?

3. State the differences between Rural and Urban community.

IV. Map Skills

On the political map of India locate and label the following places.

- a. Place where Red Fort is situated.
- b. One of the archeological sites

D.A.V. MODEL SCHOOL, KSTP, ASANSOL
HOLIDAY HOME WORK (SUMMER VACATION)

SESSION: 2024-2025

WORK SHEET NO.: -1

SUBJECT: SANSKRIT

CLASS: VI

Name _____ Roll No: _____ Section: _____

1) उपयुक्तपदेन वाक्यानि पूरयन्तु।

पुरः पुरः _____ ।

प्रगाय _____ ।

स्व-जन्म-भूमि _____ ।

प्रयच्छ वीर ! _____ ।

रणे _____ सुकौशलम्।

प्रवर्धताम् _____ ।

_____ जयस्तव।

कुरु _____ ।

2) समुचितं पर्यायपदं लिखन्तु।

(मञ्जुषा - विजयः , अग्ने-अग्ने, पृथ्वी, युद्धे, देहि)

पुरः पुरः - _____ ।

प्रयच्छ - _____ ।

जयः - _____ ।

भूमिः - _____ ।

रणे - _____ ।

अधोलिखितम् अनुच्छेदम् पठित्वा प्रश्नानान् उत्तराणि लिखत।

अहं प्रतिदिनं विद्यालयं गच्छामि। अहं विद्यालये प्रतिदिनं पाठं पठामि। अहं विद्यालये प्रतिदिनं लेखम् अपि लिखामि। विद्यालये मम अनेकानि मित्राणि सन्ति। अहं मित्रैः सह क्रीडामि। अस्माकं विद्यालये अनेकानि चित्राणि सन्ति। चित्राणि सुन्दराणि सन्ति। वयं मिलित्वा सुन्दराणि चित्राणि पश्यामः। वयं मिलित्वा गीतानि अपि गायामः। वयं मिलित्वा क्रीडाङ्गणे क्रीडामः धावामः च।

3) एकपदेन उत्तरत।

क) विद्यालये कानि सुन्दराणि सन्ति?

_____।

ख) वयं कुत्र क्रीडामः धावामः च?

_____।

4) पूर्णवाक्येन उत्तरत।

क) अहं प्रतिदिनं कुत्र गच्छामि?

_____।

ख) अहं कैः सह क्रीडामि ?

_____।

5) निर्देशानुसारं उत्तराणि लिखन्तु।

क) 'अहं विद्यालये प्रतिदिनं पाठं पठामि।' - अत्र क्रियापदम् किम्? (अहं, प्रतिदिनं, पठामि)।

_____।

ख) प्रतिदिनं _____ अपि लिखामि। (पाठम् , लेखम् , गीतम्)

6) मञ्जुषातः उचितं वाक्यं चित्वा चित्राणां समक्षं लिखन्तु।

(मञ्जुषा- बालः लिखति , बालः नमति, बालः पठति, बालः चलति)



क) _____ ।



ख) _____ ।



ग) _____ ।



घ) _____ ।

7) वर्ण- विन्यासं कुर्वन्तु ।

क) पुरा - _____ ।

ख) एकदा - _____ ।

ग) शीघ्रम् - _____ ।

घ) शनैः - _____ ।

8) वर्ण-योजनम् कुर्वन्तु ।

क) स् + अ + द् + आ = _____ ।

ख) त् + अ + त् + र् + अ = _____ ।

ग) प् + अ + र् + अ + न् + त् + उ = _____ ।

घ) भ् + र् + अ + म् + अ + त् + इ = _____ ।

9) उचितशब्दरूपैः रिक्तस्थानानि पूरयन्तु ।

	<u>एकवचनम्</u>	<u>द्विवचनम्</u>	<u>बहुवचनम्</u>
प्रथमा	_____	तौ	ते
तृतीया	_____	एताभ्याम्	एतैः
चतुर्थी	तस्मै	_____	_____
षष्ठी	तस्य	तयोः	_____
सप्तमी	तस्मिन्	_____	_____

10) उचित-सर्वनामपदैः रिक्तस्थानानि पूरयन्तु ।

पुल्लिङ्गे	सः छात्रः	_____ छात्रौ	_____ छात्राः
स्त्रीलिङ्गे	_____ छात्रा	ते छात्रे	_____ छात्राः
नपुंसकलिङ्गे	तत् फलम्	_____ फले	_____ फलानि

11) अधोलिखितेषु वाक्येषु मञ्जुषायां प्रदत्त-शब्दानां सहायतया रिक्तस्थानानि पूरयन्तु।



(मञ्जुषा- कलकत्तानगरे, आसीत्, विचारशीलः, नरेन्द्रः, महापुरुषः)

क) स्वामी विवेकानन्दः एकः _____ ।

ख) विवेकानन्दस्य जन्म _____ अभवत्।

ग) तस्य पिता विश्वनाथदत्तः माता च भुवनेश्वरी देवी च _____ ।

घ) तस्य प्रथमं नाम _____ इति आसीत्।

ङ) नरेन्द्रः बाल्यात् एव क्रीडापटुः दयालुः _____ च आसीत्।।

1 1.निम्नलिखित अपठित गद्यांश को पढ़कर पूछे गए प्रश्नों का उत्तर लिखिए:-
हाथी सबसे भारी-भरकम पशु है। जंगली हाथी जहाँ भी जाते हैं, सारा परिवार झुंड में जाता है। असम के हाथियों का यह झुंड एक नए जंगल की ओर चला। उन्हें एक साथ बड़ा- सा तालाब दिखाई दिया। नहाने धोने, कीचड़ लपेटने और सूँड से फुहारा छोड़ने के लिए इस तालाब में बहुत पानी था।
क) सबसे भारी - भरकम पशु कौन - सा है?
.....
.....
ख) हाथियों का झुंड किस राज्य में था?
.....
.....
ग) हाथी झुंड में चलते हैं या अकेले?
.....
.....

2 प्रस्तुत चित्रों के आधार पर ऐसे शब्द लिखिए जिसमें 'अनुनासिक' अथवा 'अनुस्वार' अक्षर का प्रयोग हुआ है-

		
.....

3 निम्नलिखित शब्दों के दो समानार्थी शब्द लिखिए-
क) भूमि ख) रात्रि

4 निम्नलिखित शब्दों के उचित संबंध वाले विकल्प छाँटकर लिखिए-
क) प्राणी : जीव :: संसार :
i) कठिनाई ii) परिश्रम iii) मेहनत iv) दुनिया
ख) हँसना : रोना :: नीचे
i) सुख ii) बड़ा iii) ऊपर iv) पुराना

8 निम्नलिखित अपठित गद्यांश को पढ़कर पूछे गए प्रश्नों का उत्तर लिखिए:-

मोर बहुत सुंदर पक्षी है। यह हमारे देश का राष्ट्रीय पक्षी भी है। इसलिए इसे पक्षियों का राजा कहते हैं। मोर का शरीर बड़ा और भारी होता है। यही कारण है कि आसमान में ऊँचा नहीं उड़ सकता है। मोर प्रायः झाड़ियों में रहता है। मोर की गर्दन लंबी होती है। इसके सिर पर एक सुंदर कलंगी लगी होती है। मोर के पंख बहुत आकर्षक होते हैं। इसके पंखों पर आधे चाँद जैसा निशान होता है। वर्षा ऋतु में बादलों को देखकर यह थिरकने लगता है और अपने पंख फैलाकर आकर्षक नृत्य प्रस्तुत करता है। यह कीड़े- मकोड़े और अनाज खाता है। यह साँपों का शत्रु होता है। लड़ाई में उन्हें मार डालता है।

क) मोर के सिर पर क्या होता है?

.....
.....

ख) वर्षा ऋतु में मोर क्या करता है?

.....
.....

ग) पक्षियों का राजा किसे कहते हैं?

.....
.....


घ) मोर किसका शत्रु होता है?

.....
.....

ङ) चित्र को देखकर अपठित गद्यांश में आए शब्द को लिखिए।



.....



.....

9 निम्नलिखित शब्दों के समानार्थी शब्द पर सही निशान लगाइए:-

(क) माँ - सहेली दोस्त प्रिय माता

(ख) फूल - पुष्प वर्षा ऋतु कलम

10	<p>निम्नलिखित वाक्यों के सामने सही और गलत का निशान लगाइए:- (क) हमें दूसरों की मदद करनी चाहिए। (ख) हमें बड़ों का सम्मान करना चाहिए।</p>												
11	<p>निम्नलिखित प्रश्नों के उत्तर (20 -25 शब्दों में) लिखिए-</p> <p>क) कविता 'भारत देश' में बच्चे क्या वादा करते हैं? </p> <p>ख) हमारे देश में क्या-क्या भिन्न हैं? </p> <p>ग) हाथी को पेड़ उखाड़ता देख चिड़िया ने अपनी आँखे बंद कर ली थी - चिड़िया ने अपनी आँखे क्यों बंद कर ली? </p> <p>घ) पेड़ उखाड़ने से हमें क्या-क्या नुकसान हो सकते हैं? </p> <p>ङ) पक्के दोस्त के क्या-क्या गुण होते हैं? </p>												
12	<p>नाम वाले शब्द को 'संज्ञा' कहते हैं और काम वाले शब्द 'क्रिया' कहते हैं। नीचे दिए बक्से में से 'नाम वाले शब्द' और 'काम वाले शब्द' को छाँट कर लिखें -</p> <div style="border: 1px solid black; padding: 10px; text-align: center; margin: 10px 0;"> <p>नदी चिड़िया हँसना सोना गिरना हाथी दौड़ना गाय रोना घोंसला</p> </div> <table border="1" style="width: 100%; border-collapse: collapse; margin: 10px 0;"> <thead> <tr> <th style="width: 50%; text-align: center;">नाम वाले शब्द</th> <th style="width: 50%; text-align: center;">काम वाले शब्द</th> </tr> </thead> <tbody> <tr><td> </td><td> </td></tr> <tr><td> </td><td> </td></tr> <tr><td> </td><td> </td></tr> <tr><td> </td><td> </td></tr> <tr><td> </td><td> </td></tr> </tbody> </table>	नाम वाले शब्द	काम वाले शब्द										
नाम वाले शब्द	काम वाले शब्द												